

Emel de bairro Santa Cruz

Pedregulha, 10 de março de 2021

Nome:

Professora: Milema



ROTINA

- 1- PREENCHER O CALENDÁRIO E ENVIAR A FOTO
- 2- ASSISTIR OS VÍDEOS EXPLICATIVOS
- 3- LIVRO DE MATEMÁTICA APIS : ORDEM DOS NÚMEROS NATURAIS PÁGINA: 25
- 4- CADERNO DE MATEMÁTICA

ATIVIDADE PERMANENTE

- 1) FAÇA OS NÚMEROS DE 201 ATÉ 230 .

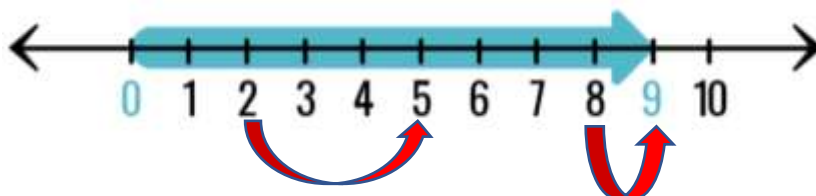
201-

211-

221-

ORDEM DOS NÚMEROS NATURAIS

OBSERVE A SEQUÊNCIA NUMÉRICA :



- O 2 VEM ANTES DO 5. POR ISSO, 2 É MENOR QUE 5 OU $2 < 5$
- O 9 VEM DEPOIS DO 8. ENTÃO, 9 É MAIOR QUE 8 OU $9 > 8$

ATIVIDADES

1- OBSERVE A SEQUÊNCIA DE NÚMEROS ABAIXO E RESPONDA:

26 – 37 – 58 – 72 – 19 – 9

A- QUAIS SÃO OS NÚMEROS MENORES QUE 40?

B- OS NÚMEROS QUE FICAM ENTRE 40 E 80?

C- O NÚMERO MAIOR QUE 60?

2- USE OS SINAIS MAIOR DO QUE ($>$) E MENOR DO QUE ($<$).

A- 6 _____ 3

B- 9 _____ 2

C- 2 _____ 1

D- 18 _____ 5

E- 37 _____ 100

F- 56 _____ 48

G- 67 _____ 76

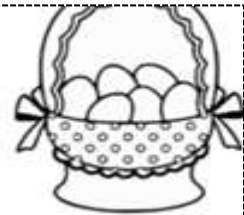
H- 97 _____ 114

I-78 _____ 89

J-9 _____ 23

3- VAMOS RESOLVER ALGUNS PROBLEMINHAS ?


EM UMA CESTA HAVIA 12 OVOS DE PÁSCOA.
PAULO COLOCOU MAIS 11 OVOS. QUANTOS OVOS
HÁ NA CESTA AGORA?



NO PARQUINHO ESTAVAM 10 CRIANÇAS
JOGANDO BRINCANDO. CHEGARAM MAIS 16
CRIANÇAS. QUANTAS CRIANÇAS FICARAM AO
TODO?



CAMILA FOI AO SUPERMERCADO E COMPROU
1 DEZENA DE MAÇÃS E 1 DÚZIA DE PERAS.
QUANTAS FRUTAS ELA COMPROU?



NOAH COMPROU FLORES PARA A MAMÃE. AS
FLORES CUSTARAM R\$27,00. ELE PAGOU COM
UMA CÉDULA DE R\$50,00. QUANTO RECEBEU DE
TROCO?

